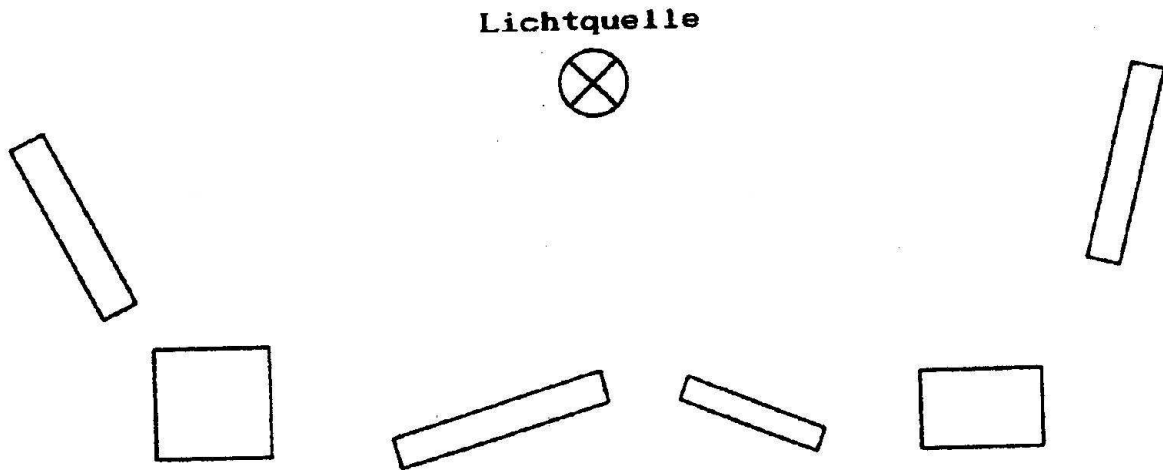



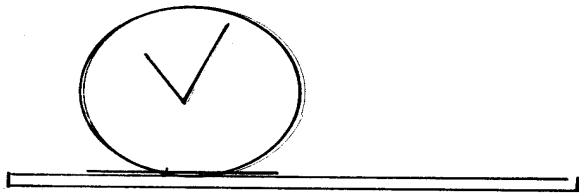
Schattenbildung

1. Das Bild zeigt eine punktförmige Lichtquelle und verschiedene undurchsichtige Gegenstände. Zeichne die Schatten ein.



2. Das Bild zeigt a) eine punktförmige Lichtquelle, b) ein Lichtband mit jeweils einer Uhr, die auf einem Tisch steht. Zeichne die Schatten ein.

x



3. Warum wählt im Arbeitsbereich lieber Lichtbänder statt punktförmiger Lichtquellen?